

الفرض الكتابي رقم 1 مادة التاريخ

اجب عن احد الموضوعين
الموضوع الأول

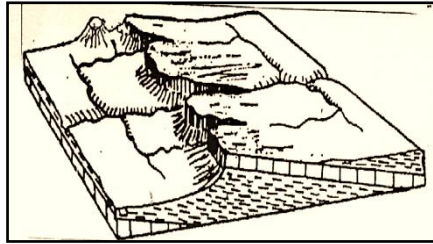
شهد القرن 16 بأوروبا الغربية ظهور الإصلاح الديني . في هذا الإطار اكتب مقالا تاريخيا توضح فيه الأسباب التي كانت وراء ذلك والنتائج التي خلفها.

الموضوع الثاني.

ساهمت الحركة الإنسية في ظهور الفكر الحدائي بأوروبا. وضح ذلك.

مادة الجغرافيا

1 - حدد نوع الشكل التضاريسي وخصائصه البنيوية والمجاري المائية التي يتضمنها انطلاقا من الشكل أسفله. 2ن

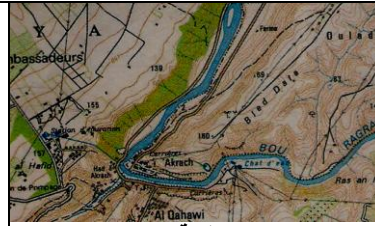


3ن

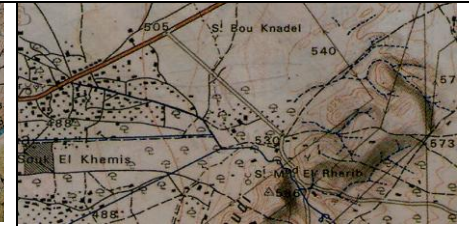
2 - حدد خصائص كل شكل تضاريسي ونوعه.



الوثيقة 3



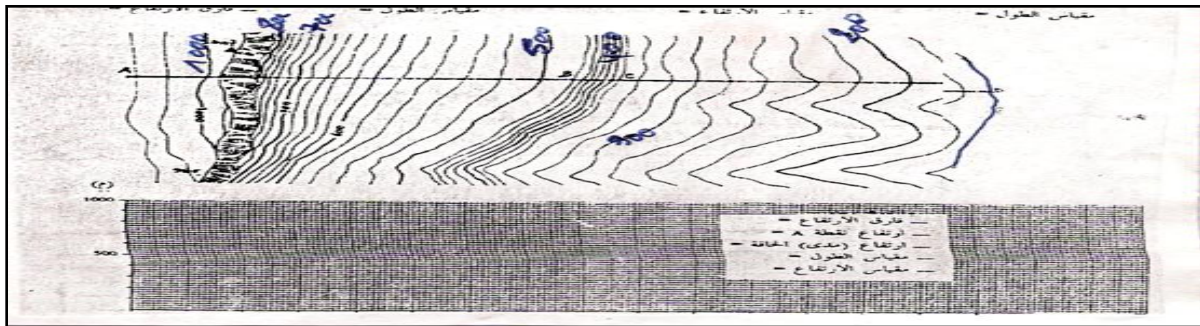
الوثيقة 2



الوثيقة 1

2ن

3 - اتمم رسم المقطع الطبوغرافي وحدد الهدف منه



1ن

4- حدد موضع وموقع مركز عين عائشة.

1ن

5- حدد الفرق بين الإحداثيات الجغرافية والإحداثيات الكارطوغرافية.

1ن

6- حدد الادوات المعتمدة في التوطين الجغرافي.